



# تجميع أسئلة مختبرين الورقي

يوم السبت  
( الفترة المسائية )

23/05/1444

17/12/2022

شامل جميع أسئلة مختبرين  
الورقي يوم السبت المسائي.



# قناة قدرات ثانوي

تضم جميع اسئلة المختبرين واحداث  
التسريبات والتجميعات والاختبارات  
اضغط هنا للإنضمام

لا يصح الإعتماد على التجميعات اليومية، تم  
تجميعها لأجل التدريب وأخذ فكره عن الأسئلة.

# القسم الكمي

تسريبات مختبرين الورقي

إذا كان عمر احمد ربع عمر ابوه ، وعمر اخيه خالد  
يزيد ب٣ سنوات عن عمر احمد فما عمر خالد ،  
علما بان عمر الاب ٣٦



@kodurat3

قناة قدرات ثانوي



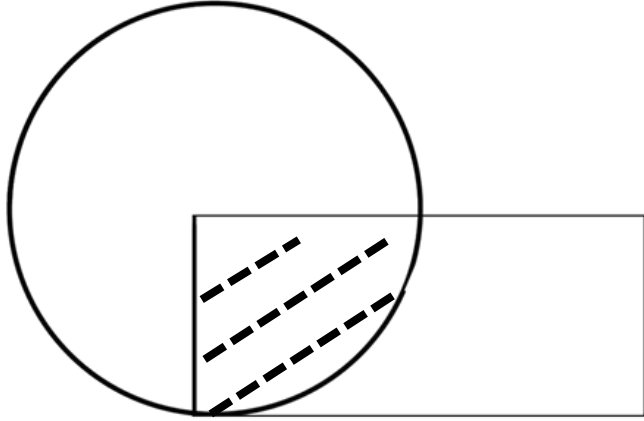
ب ١٦

أ ٩

د ٨

ج ١٢

تسريبات مختبرين الورقي



إذا كان مساحة المظل = ١٠ ومساحة  
المستطيل = مساحة الدائرة  
أوجد مساحة المستطيل ؟



@kodurat3

قناة قدرات ثانوي



٤٥ ب

٤. أ

٥٦ د

٣. ج

تسريبات مختبرين الورقي

قارن بين:  
القيمة الاولى:  $\sqrt{20+100}$   
القيمة الثانية: 10



@kodurat3



قناة قدرات ثانوي

القيمة الثانية اكبر

ب

القيمة الاولى اكبر

أ

المعطيات غير كافية

د

القيمتان متساويتان

ج

تسريبات مختبرين الورقي

قاعة تكفي ٤٥ شخص إذا أراد المدير مع المرشد و ٣ معلمين  
تكريم بعض الطلاب شرط ان يأتوا مع اباؤهم وتكريمهم في  
هذه القاعة كم طالب تم تكريمهم ؟



@kodurat3

قناة قدرات ثانوي



٢٤

أ

٢٠

ب

٣٦

ج

١٨

د

تسريبات مختبرين الورقي

$$\frac{1}{-1 \dots} = \frac{1}{(ص + ٢)٤} \quad ? \quad \text{اوجد قيمة ص}$$



@kodurat3

قناة قدرات ثانوي



ا

ب

٤

١

٠

د

١٠

ج

تسريبات مختبرين الورقي



قارن بين:  
القيمة الاولى: ٤١.  
القيمة الثانية: ٤٠١.



@kodurat3



قناة قدرات ثانوي

ب القيمة الثانية اكبر  
د المعطيات غير كافية

أ القيمة الاولى اكبر  
ج القيمتان متساويتان

تسريبات مختبرين الورقي

خمسة أمثلة عدد إذا أضفنا إليه ٢ أصبح الناتج ١٢ :



@kodurat3

قناة قدرات ثانوي



٧ ب

١٠ أ

٢ د

٥ ج

تسريبات مختبرين الورقي

اكمل النمط :  
... ، ٣٢ ، ١٦ ، ٨ ، ٤ ، ٢



@kodurat3

قناة قدرات ثانوي



١٩ ب

٤٢ أ

٦٤ د

٨٠ ج

تسريبات مختبرين الورقي

ما الكسر الاقل قيمة؟



@kodurat3

قناة قدرات ثانوي



0.0/0

ب

٤/0

أ

0/0

د

٤.0/0

ج

تسريبات مختبرين الورقي

نسبة الطلاب الى المعلمين ٦:١  
كم عدد الطلاب اذا كان عدد المعلمين ٦٠٠ ؟



@kodurat3

قناة قدرات ثانوي



٣٦٠٠	أ
١٢٠٠	ج
٩٠٠	ب
٣٠٠	د

تسريبات مختبرين الورقي

اذا كان هناك ٨٣ طالب يريدون الذهاب إلى رحلة، وكانت الحافلة تتسع لـ ٢٤ طالب، ففي كم حافلة يستطيعون الركوب؟



@kodurat3

قناة قدرات ثانوي



0

أ

٢

ب

٤

ج

٣

د

تسريبات مختبرين الورقي

اذا كانت الساعة ٧ ، فكم ستكون بعد ٧0 ساعة ؟



@kodurat3

قناة قدرات ثانوي



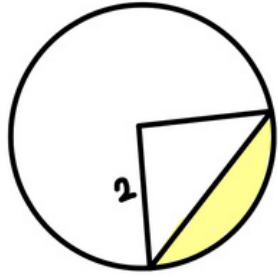
ب ١٢

د ١٠

أ ٧

ج ٨

تسريبات مختبرين الورقي



اوجد مساحة الجزء المظلل؟



@kodurat3

قناة قدرات ثانوي



ب  $\epsilon + \pi$

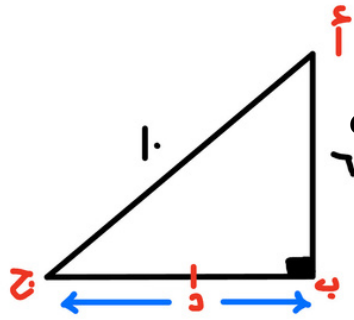
د  $\lambda + \pi$

أ  $\pi + 2$

ج  $\pi - 2$

تسريبات مختبرين الورقي





إذا كان الأول يقطع مسافة من (د) إلى (أ) مروراً بـ (ب) ،  
والثاني يقطع مسافة من (د) إلى (أ) مروراً بـ (ج) ، و (د) تنصف  
(ب) (ج) ، كم يجب أن يزيد سرعته الثاني حتى يتساوى مع  
الأول؟



@kodurat3

قناة قدرات ثانوي



أ	10%	ب	80%
ج	6%	د	4%

تسريبات مختبرين الورقي

قارن بين :-

$$\frac{-0}{\epsilon} \quad | \quad \frac{-0}{\mu}$$



@kodurat3

قناة قدرات ثانوي



القيمة الثانية اكبر

ب

القيمة الاولى اكبر

أ

المعطيات غير كافية

د

القيمتان متساويتان

ج

تسريبات مختبرين الورقي

خالد يعمل نصف مدة عمل فهد ويعمل ثلث مدة عمل  
سعد، فإذا عمل سعد ١٢ ساعة.. فكم مدة عمل فهد  
بالساعات؟



@kodurat3

قناة قدرات ثانوي



١. ب

٨

٣. د

٢

ج

تسريبات مختبرين الورقي

سلطان وخالد ما معهم = ٢٠٠ ، إذا كان ما مع  
خالد أقل بـ ٢٠٠ من سلطان فكم مع سلطان؟



@kodurat3

قناة قدرات ثانوي



١٥٠

ب

١٠٠

أ

٢٠٠

د

٥٠

ج

تسريبات مختبرين الورقي

٢س - ١ = ٤س - ٣ (٢ - س)  
اوجد قيمة س ؟



@kodurat3



قناة قدرات ثانوي

٦

ب

١٠

أ

٧

د

١

ج

تسريبات مختبرين الورقي

قارن بين :  
القيمة الاولى:  $(-V)^{\wedge}$   
القيمة الثانية: (V)



@kodurat3


قناة قدرات ثانوي



ب القيمة الثانية اكبر  
المعطيات غير كافية

أ القيمة الاولى اكبر  
ج القيمتان متساويتان

تسريبات مختبرين الورقي



قارن بين :  
القيمة الاولى: قطر الدائرة  
القيمة الثانية: ضلع المربع



@kodurat3

قناة قدرات ثانوي



ب القيمة الثانية اكبر  
د المعطيات غير كافية

أ القيمة الاولى اكبر  
ج القيمتان متساويتان

تسريبات مختبرين الورقي

سعر ١٠٠ قلم ١٠ ريال ، فكم سعر ١٠ اقلام؟



@kodurat3

قناة قدرات ثانوي



ب ٣٢

د ٢٠

أ ١

ج ١٠

تسريبات مختبرين الورقي



إذا كانت الساعة الثالثة فكم ستكون الساعة بعد 0. ساعة ؟



@kodurat3

قناة قدرات ثانوي



٨

ب

٤

أ

0

د

٦

ج

تسريبات مختبرين الورقي

النهائية (١٠) درجات

١٠	٩	٨	٧	٦	٥	٤	درجة الإجمالي
١	٢	٤	٧	٦	٥	١	عدد الطلاب

ما نسبة الطلاب الذين حصلوا على ٦ درجات فأقل؟



@kodurat3

قناة قدرات ثانوي



أ	٥٠٪	ب	٤٠٪
ج	٢٠٪	د	٢٥٪

تسريبات مختبرين الورقي

قارن بين :  
القيمة الاولى:

$$\sqrt[3]{27+8}$$

القيمة الثانية:

$$\sqrt[3]{27} + \sqrt[3]{8}$$



@kodurat3

قناة قدرات ثانوي



القيمة الثانية اكبر

ب

القيمة الاولى اكبر

أ

المعطيات غير كافية

د

القيمتان متساويتان

ج

تسريبات مختبرين الورقي

إذا كان عمر خالد منذ سنة يزيد عن عمر فيصل  
بـ ١٠ سنوات لو علمت ان عمر خالد الان ٤٠ ، فكم عمر فيصل الان؟



@kodurat3

قناة قدرات ثانوي



٥. ب

٤. أ

٢. د

٣. ج

تسريبات مختبرين الورقي

$$أ-2ب=27 ، أ+ب=9 اوجد أ-ب=$$



@kodurat3

قناة قدرات ثانوي



٣	ب	٢	أ
٩	د	٦	ج

تسريبات مختبرين الورقي

متوسط درجات خمس طلاب يساوي ٧  
وعند انضمام طالب سادس لم يتغير المتوسط  
فكم درجة الطالب السادس؟



@kodurat3

قناة قدرات ثانوي



٧

ب

٤

أ

١٢

د

٢

ج

تسريبات مختبرين الورقي

قاعة بها ٤٠٠ مقعد ، ٢٠٪ من المقاعد فارغة ، فكم عدد الحاضرين ؟



@kodurat3

قناة قدرات ثانوي



٣٢٠

ب

٢٠٠

أ

١٠٠

د

٣٨٠

ج

تسريبات مختبرين الورقي

قارن بين  
القيمة الاولى : طباعة تطبع 240 صفحة في 6 أيام  
القيمة الثانية : طباعة تطبع 270 صفحة في 9 أيام



@kodurat3

قناة قدرات ثانوي



القيمة الثانية اكبر

ب

القيمة الاولى اكبر

أ

المعطيات غير كافية

د

القيمتان متساويتان

ج

تسريبات مختبرين الورقي



إذا كان الفرق بين عدد وجذره التربيعي ٧٢  
فان ذلك العدد هو؟



@kodurat3

قناة قدرات ثانوي



١٠ ب

٨ أ

٩ د

٨١ ج

تسريبات مختبرين الورقي

# القسم اللفظي

تسريبات مختبرين الورقي

# التناظر اللفظي

تسريبات مختبرين الورقي

سحر : فجر



@kodurat3



قناة قدرات ثانوي

ب : نهار : ليل  
د : كاهن ساحر

أ : ضحى - ظهر  
ج : عصر - شتاء

تسريبات مختبرين الورقي

دوي : انفجار



@kodurat3



قناة قدرات ثانوي

ب صرير : شجر  
د غطيط : أفعى

أ خريز : ماء  
ج تمريق : ورقة

تسريبات مختبرين الورقي

أفراح : أحزان



@kodurat3



قناة قدرات ثانوي

ليل : نهار

ب

يسر : عسر

أ

أسود : أبيض

ج

د

تسريبات مختبرين الورقي

عسل : نحل



@kodurat3



قناة قدرات ثانوي

ب ديوان : كتيب

د زيد : لبن

أ ماء : تلج

ج مسك : غزال

تسريبات مختبرين الورقي

كهرباء : نور



@kodurat3



قناة قدرات ثانوي

نخلة : تمر

ب

أ صلاح : أعمال

ج

إشارة : تقاطع

د

حاضي : حاضر

تسريبات مختبرين الورقي



أسطبل : حصان



@kodurat3



قناة قدرات ثانوي

ب منزل : رجل  
د خاتم : فص

أ صوف : فرو  
ج طعام : مائدة

تسريبات مختبرين الورقي

شمس : كون



@kodurat3



قناة قدرات ثانوي

ب صوف : فرو

ب

أ باب : بيت

أ

ج طعام : مائدة

ج

د

تسريبات مختبرين الورقي

كيماء : فيزياء



@kodurat3



قناة قدرات ثانوي

أحمر : أصفر

ب

أ : ماء : بحر

أ

تفاح : فواكه

د

ج : تفاح : فواكه

ج

تسريبات مختبرين الورقي

جنين : رحم



@kodurat3



قناة قدرات ثانوي

أم : أسره

ب

أ غمد : سيف

ج

مطر : مضلة

د

محراب : مسجد

تسريبات مختبرين الورقي

بيت : باب



@kodurat3



قناة قدرات ثانوي

كأس : ماء

ب

سيارة : مفتاح

أ

د

ج

تسريبات مختبرين الورقي

نحل : عسل



@kodurat3

قناة قدرات ثانوي



نمل : قرية

ب

فواكه : عصير

أ

حليب بقر

ج

د

تسريبات مختبرين الورقي

# الخطأ السياقي

تسريبات مختبرين الورقي

الأمر الكبير إذا توازعتها الأيدي وتقاسمتها المهام خفت  
مهما عظم أمرها.



@kodurat3

قناة قدرات ثانوي



ب الأيدي

د عظم

أ الكبيرة

ج المهام

تسريبات مختبرين الورقي



إذا سلكت طريق النجاح، وعصفت بك رياح العواصف.. فامش قليلاً ثم تابع مسيرك.



@kodurat3

قناة قدرات ثانوي



ب سلكت  
د مسيرك

أ رياح  
ج فامش

تسريبات مختبرين الورقي

الحياة عبء خفيف على بعض الناس، وبعض الناس عبء  
ثقيل على الحياة.



@kodurat3

قناة قدرات ثانوي



ب بعض

د خفيف

أ ثقيل

ج الحياة

تسريبات مختبرين الورقي

# إكمال الجمل

تسريبات مختبرين الورقي

العاقل يغلق فمه قبل أن يغلق الناس.....



@kodurat3

قناة قدرات ثانوي



ب ألسنتهم

ب

أ أذانهم

أ

د أعينهم

د

ج أفواههم

ج

تسريبات مختبرين الورقي

إن الأمم التي تمر بها لحظات..... تجعلها تتفرق ثم يأتي  
..... ليساهموا في إعادة توحيدها.



@kodurat3

قناة قدرات ثانوي



ب

حاسمة - الحكماء

أ

د

ج

تسريبات مختبرين الورقي

إذا ..... الحكيم كان ..... لك.



@kodurat3



قناة قدرات ثانوي

ب سألت - إجابته

د شاورت - عقله

أ شاورت - أخلاقه

ج سألت - جاهه

تسريبات مختبرين الورقي

راحة الجسم في قلة ..... وراحة النفس في قلة .....



@kodurat3

قناة قدرات ثانوي



الطعام - الآثام

ب

الفهم - الغم

أ

التعب - الآلام

د

الاهتمام - الحزن

ج

تسريبات مختبرين الورقي

# المفردة الشاذة

تسريبات مختبرين الورقي



أي الآتي مختلف؟



@kodurat3



قناة قدرات ثانوي

أ	اسوارة	ب	حناء
ج	كحل	د	خاتم

تسريبات مختبرين الورقي

**الربط**

**تسريبات مختبرين الورقي**

الربط:  
تمساح



@kodurat3

قناة قدرات ثانوي



ب غابات

ب

أ بحر

أ

د أنهار

د

ج

تسريبات مختبرين الورقي

**القطع**

**تسريبات مختبرين الورقي**

سيتم تنزيل القطع تدريجيًا على قناتنا

[اضغط هنا للذهاب](#)

الزجاج

الطنبوري

الملح الصخري

سرطان المثانة

الأنهار

غسيل الأموال

تسريبات مختبرين الورقي

الفيروسات

الغازات

البلاستيديات الخضراء  
وروسيا

النحل

مصعب بن عمير رضي  
الله عنه

تسريبات مختبرين الورقي



# قناة قدرات ثانوي

تضم جميع أسئلة المختبرين. واحداث  
التسريبات والتجميعات والاختبارات  
اضغط هنا للإنضمام

لا يصح الإعتماد على التجميعات اليومية، تم  
تجميعها لأجل التدريب وأخذ فكره عن الأسئلة.